

## 2023年度 一般入学試験 前期日程（2月1日）

# 地理歴史・公民・理科

〔世界史B, 日本史B, 政治・経済〕  
〔物理基礎・化学基礎・生物基礎〕

（試験時間 60分）

この問題冊子には、「世界史B」「日本史B」「政治・経済」の3科目及び「理科（物理基礎・化学基礎・生物基礎）」を掲載しています。解答する科目を間違えないように選択しなさい。

### 注 意 事 項

- 1 試験開始の合図があるまで、この問題冊子の中を見てはいけません。
- 2 この注意事項は、問題冊子の裏表紙にも続きます。問題冊子を裏返して必ず読みなさい。ただし、問題冊子を開いてはいけません。
- 3 この問題冊子は、127ページあります。出題科目、ページ及び選択方法は、下表のとおりです。

出 題 科 目		ペ ー ジ	選 択 方 法
地理 歴史 ・ 公民	世界史B	4～29	左の3科目のうち1科目を選択して解答する。
	日本史B	30～57	
	政治・経済	58～83	
理科	物理基礎・化学基礎・ 生物基礎	85～127	試験時間内に左の3科目のうち2科目を選択して解答する。

- 4 試験中に問題冊子の印刷不鮮明、ページの落丁・乱丁及び解答用紙の汚れ等に気付いた場合は、手を挙げて監督者に知らせなさい。
- 5 「地理歴史・公民」の科目を選択する者は「地理歴史・公民解答用紙」を、「理科」の科目を選択する者は「理科解答用紙」を使用しなさい。

「理科」は解答用紙1枚で2科目を解答します。解答の順番は問いません。解答時間(60分)の配分は自由です。

裏表紙へ続く、裏表紙も必ず読むこと。

6 解答用紙には解答欄以外に次の記入欄があるので、それぞれ正しく記入し、マークしなさい。

① 試験コード欄・座席番号欄

試験コード・座席番号(数字)を記入し、さらにその下のマーク欄にマークしなさい。正しくマークされていない場合は、採点できないことがあります。

② 氏名欄

氏名・フリガナを記入しなさい。

③ 解答科目欄

解答する科目を一つ選び、科目名の右の○にマークしなさい。マークされていない場合又は複数の科目にマークされている場合は、0点となります。

7 解答は、解答用紙の解答欄にマークしなさい。例えば、

10
----

と表示のある問いに対して③と解答する場合は、次の(例)のように解答番号10の解答欄の③にマークしなさい。

(例)

解答 番号	解 答 欄									
10	①	②	●	④	⑤	⑥	⑦	⑧	⑨	⑩

8 問題冊子の余白等は適宜利用してよいが、どのページも切り離してはいけません。

9 試験終了後、問題冊子は持ち帰りなさい。

# 世界史 B

(解答番号  ~ )

**第1問** 世界史上に見られる領土拡大正当化の考え方や主張について述べた次の文章A～Cを読み、下の問い(問1～9)に答えよ。

A 山脈や①河川、海などが国家の本来の国境であるとする主張は、自然国境説と呼ばれる。特に16世紀以降のフランスでは、大西洋、ピレネー山脈、地中海、アルプス山脈、ライン川などを自然国境とみなす主張が盛んになった。これらの中で、特に重要なものはライン川であった。この川はスイスに源を発し、ほぼ北流してドイツ西北部で西に流れを変え、②オランダで北海に注いでいる。この川が国境であるという主張が、フランスの東方および北方への領土拡大の正当化に利用された。実際にこの領土拡大が実現した事例としては、③三十年戦争の結果としてアルザスとロレーヌの一部をフランスが獲得したことが挙げられる。

**問1** 下線部①に関連して、世界の河川をめぐる歴史について述べた文として正しいものを、次の①～④のうちから一つ選べ。

- ① 淮河と秦嶺山脈を結ぶ線が、南宋と遼の国境とされた。
- ② ナイル川下流域のメンフィスが、エジプト古王国の都とされた。
- ③ ガンジス川中流域のパータリプトラが、クシャーナ朝の都とされた。
- ④ シャイレンドラ朝が、メコン川下流域にボロブドゥールを建造した。

問2 下線部②について述べた文として正しいものを、次の①～④のうちから一つ  
選べ。

- ① ネーデルラント連邦共和国として、スペインからの独立を宣言した。
- ② ジャワ島のシンガポールを、東南アジアの拠点とした。
- ③ アンボイナ事件の結果、モルッカ(マルク)諸島から退いた。
- ④ ウィーン会議の結果、永世中立国となった。

問3 下線部③について述べた文として正しいものを、次の①～④のうちから一つ  
選べ。

- ① フランドル地方のプロテスタントの反乱から始まった。
- ② スウェーデンは、カトリック側を支援して参戦した。
- ③ フランスは、プロテスタント側を支援して参戦した。
- ④ ユトレヒト条約の締結によって、戦争が終結した。

## 世界史 B

B ④ アメリカ合衆国は1845年に **ア** を併合したが、同年にこれを祝ってオサリヴァンというジャーナリストが、「マニフェスト＝デスティニー」（「明白な天命」）という考え方を唱えた。これは、アメリカ合衆国の西部開拓は神から与えられた天命であるとするもので、以後、アメリカ合衆国の領土拡大を正当化するためのスローガンとして利用された。**ア** の併合の影響で、アメリカ合衆国と **イ** との間での対立が深まり、1846年にアメリカ＝**イ** 戦争が勃発し1848年まで続いた。アメリカ合衆国内において、この戦争支持の世論を高揚させるために、「マニフェスト＝デスティニー」は大きな役割を果たした。また、19世紀末に、この考え方は⑤ 合衆国による帝国主義政策の正当化の理論ともなった。

問4 文章中の空欄 **ア** と **イ** に入れる語の組合せとして正しいものを、次の①～④のうちから一つ選べ。 **4**

- |   |             |          |
|---|-------------|----------|
| ① | ア — カリフォルニア | イ — スペイン |
| ② | ア — カリフォルニア | イ — メキシコ |
| ③ | ア — テキサス    | イ — スペイン |
| ④ | ア — テキサス    | イ — メキシコ |

問5 下線部④に関連して、アメリカ合衆国の独立までの過程について述べた文として誤っているものを、次の①～④のうちから一つ選べ。 5

- ① 印紙法の制定に対し、13植民地で強い反対運動が起こった。
- ② 茶法に反発した植民地の急進派が、ボストン茶会事件を起こした。
- ③ ヨークタウンの戦いによって、独立戦争が始まった。
- ④ パリ条約で、イギリスはアメリカ合衆国の独立を承認した。

問6 下線部⑤に関連して、この政策の一環として、アメリカ合衆国はキューバを事実上保護国化した。その後のキューバの歴史について述べた次の文 **a** と **b** の正誤の組合せとして正しいものを、下の①～④のうちから一つ選べ。 6

- a** アメリカ合衆国のウィルソン大統領は、キューバの独立を承認した。
- b** キューバ革命によって、親米のバティスタ政権が倒された。

- ① **a** — 正      **b** — 正
- ② **a** — 正      **b** — 誤
- ③ **a** — 誤      **b** — 正
- ④ **a** — 誤      **b** — 誤

## 世界史 B

C 民族自決原則や、他国において自国と同じ民族の権利や安全の確保を求める主張は、しばしば自国の領土拡大を正当化するために行われることがある。ドイツの⑥ヒトラー政権が行った、チェコスロヴァキアのズデーテン地方の併合要求はその一例である。ドイツ、⑦ポーランドと境を接するこの地方にはドイツ系住民が多く、ヒトラー政権は彼らの安全の確保を主張してチェコスロヴァキアにこの地方の割譲を求めた。この問題をめぐって英仏独伊の首脳による⑧ミュンヘン会談が開かれたが、一方の当事国であるチェコスロヴァキアはこの会談に招かれなかった。この会談で英仏はヒトラーに譲歩し、ズデーテン地方はドイツに併合されることになった。

問7 下線部⑥について述べた文として正しいものを、次の①～④のうちから一つ選べ。 

7
---

- ① エーベルト大統領が、ヒトラーを首相に任命して成立した。
- ② ホロコーストと呼ばれる高速道路の建設を推進した。
- ③ スペイン内戦に、フランコ側を支援して軍事介入した。
- ④ ラインラントに進駐したのち、ロカルノ条約を締結した。

問8 下線部⑦に関連して、この国の歴史について述べた文として正しいものを、次の①～④のうちから一つ選べ。 8

- ① ヤゲウォ(ヤゲロー)朝の成立で、ハンガリーとの同君連合が樹立された。
- ② 18世紀後半の周辺国による領土分割によって、国家が消滅した。
- ③ 第一次世界大戦後に、コシュートが政権を握り、独裁を行った。
- ④ 第二次世界大戦後に、ティトーが独自の社会主義の建設を推進した。

問9 下線部⑧に関連して、この会談に出席したイタリア首相のムッソリーニやその政党について述べた文として正しいものを、次の①～④のうちから一つ選べ。

9

- ① 「ローマ進軍」を展開し、国王に組閣を命じられた。
- ② ブルガリア領であったフィウメを併合した。
- ③ ローザンヌ条約によって、ローマ教皇庁と和解した。
- ④ エチオピアへ侵攻したが撃退され、併合に失敗した。



## 世界史 B

**第2問** 世界史上の紀年法について述べた次の文章A～Cを読み、下の問い(問1～9)に答えよ。

A 多くのポリス(都市国家)が分立した①古代ギリシアでは、各地でそれぞれの紀年法が行われた。例えば、アテネでは1年任期で再任が認められないアルコンと呼ばれる最高行政官の名で年を表した。他方、前776年に始まったオリンピック競技会は②ギリシア人の民族的な祭典であり、4年に一度開かれたので、競技会開催年を基準として4年間を1単位とするオリンピック暦が存在した。しかし、競技会開催年の中でいつ開催するかの表示は、統一した暦がなかったので、夏至の後の二度目あるいは三度目の満月の時期とされていた。この時期には③戦争中であっても休戦が宣言されたので、時期の表示は重要な問題であった。

問1 下線部①の文化について述べた文として正しいものを、次の①～④のうちから一つ選べ。 

10
----

- ① アラム文字をもとに、ギリシアのアルファベットがつくられた。
- ② アイスキュロスは、悲劇作品である『労働と日々』を著した。
- ③ ヒッポクラテスは、平面幾何学を大成した。
- ④ プラトンは、永遠不変のアイデアの存在を主張した。

問2 下線部②について述べた次の文 **a** と **b** の正誤の組合せとして正しいものを、  
下の①～④のうちから一つ選べ。 11

- a インド＝ヨーロッパ語系の民族である。
- b アフラ＝マズダを中心とするオリンポス12神などを信仰した。

- ① a — 正      b — 正
- ② a — 正      b — 誤
- ③ a — 誤      b — 正
- ④ a — 誤      b — 誤

問3 下線部③に関連して、古代ギリシアの軍隊や戦争に関わる事柄について述べた文として正しいものを、次の①～④のうちから一つ選べ。 12


- ① 富裕な市民が自費で装備をととのえる重装歩兵が、軍隊の主力となった。
- ② サラムスの海戦で、ギリシア艦隊はササン朝の艦隊を破った。
- ③ ヘロドトスは、ペロポネソス戦争の歴史を著した。
- ④ カイロネイアの戦いで、アテネ・テーベ連合軍はマケドニアに勝利した。

## 世界史 B


**B** 西暦やイスラーム暦は宗教を背景とする紀年法で、前者はイエス=キリストの誕生年、後者は④ムハンマドと信徒たちの集団移住が行われた年を元年としている。このうち西暦については、実際にはイエス=キリストの誕生は前7年頃あるいは前4年頃と考えられており、誕生年と元年とは一致しない。また西暦は太陽暦であり、現在使われているものは、16世紀後半に⑤ローマ教皇グレゴリウス13世が公布したグレゴリウス暦である。一方、イスラーム暦の元年は西暦では622年に当たる。純粋な太陰暦であるため、暦と季節の間にずれが生じるが、⑥巡礼や断食などイスラームの宗教行事のための暦としては現在も使われている。

**問 4** 下線部④に関連して、この集団移住の起点となった都市にある重要な宗教施設の名と、それを示す次の写真 **a** または **b** との組合せとして正しいものを、下の①～④のうちから一つ選べ。 

13
----



**a**



**b**

- ① イマームのモスク — **a**
- ② イマームのモスク — **b**
- ③ カーバ聖殿 — **a**
- ④ カーバ聖殿 — **b**

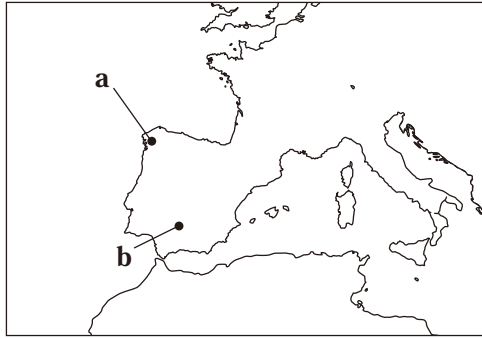
問5 下線部⑤について述べた次の文章中の空欄 **ア** と **イ** に入れる語の組合せとして正しいものを、下の①～④のうちから一つ選べ。 **14**

ローマ教皇は、ローマ教会ではイエスの十二使徒の筆頭である **ア** の後継者と位置づけられている。ローマ教会は、ビザンツ帝国のコンスタンティノープル教会と首位権を巡って対立したが、ビザンツ皇帝が発布した **イ** を巡って対立は一層深まった。

- ① **ア** — アウグスティヌス      **イ** — 統一法
- ② **ア** — アウグスティヌス      **イ** — 聖像禁止令
- ③ **ア** — ペテロ(ペトロ)        **イ** — 統一法
- ④ **ア** — ペテロ(ペトロ)        **イ** — 聖像禁止令

世界史 B

問 6 下線部⑥に関連して、巡礼はイスラームに限らず重要な宗教行事の一つとされている。キリスト教の三大巡礼地の一つとなったイベリア半島の都市の名と、その位置を示す次の地図中の **a** または **b** との組合せとして正しいものを、下の ①～④のうちから一つ選べ。 15



- ① サンチャゴ=デ=コンポステラ — **a**
- ② サンチャゴ=デ=コンポステラ — **b**
- ③ コルドバ — **a**
- ④ コルドバ — **b**

C ⑦中国の紀年法として行われた元号という方法は、日本や⑧朝鮮、ベトナムなど周辺諸国でも行われた。中国で最初の元号は漢の武帝の治世に始まるが、一人の皇帝の治世中に改元がしばしば行われたこともあり、一人の皇帝に一つの元号が対応していたわけではなかった。それが明確に対応するようになったのは、明の建国者の朱元璋が一世一元の制を始めてからである。自らの元号をもつことは独立国の証しでもあったので、⑨中国と冊封関係を結び臣従した国家では独自の元号はもてないものとされた。例えば、足利義満は明から日本国王として冊封されたものの、日本では元号は天皇が定めるものとされていたので、独自の元号が使用され続けた。

問7 下線部⑦に関連して、中国の皇帝について述べた文として正しいものを、次の①～④のうちから一つ選べ。 

16
----

- ① 後漢の光武帝は、占田・課田法を実施した。
- ② 北魏の孝文帝は、漢化政策を推進した。
- ③ 隋の文帝は、九品中正を創始した。
- ④ 唐の太宗は、『五経大全』を編纂させた。

## 世界史 B

問 8 下線部⑧に関連して、この国の歴史について述べた文として正しいものを、次の①～④のうちから一つ選べ。 17

- ① 7世紀後半に、百済が朝鮮半島を統一した。
- ② 10世紀前半に建国した高麗では、道教が国教とされた。
- ③ 14世紀末に、李舜臣が朝鮮王朝を建てた。
- ④ 19世紀後半に、日朝修好条規(江華条約)により朝鮮は開国した。

問 9 下線部⑨に関連して、この国家の一つである琉球王国について述べた次の文 a と b の正誤の組合せとして正しいものを、下の①～④のうちから一つ選べ。

18

- a 中山王が、琉球を統一した。
- b 薩摩の島津氏に侵攻されたのち、日中両属の状態となった。

- ① a — 正      b — 正
- ② a — 正      b — 誤
- ③ a — 誤      b — 正
- ④ a — 誤      b — 誤

(下書き用紙)

世界史Bの試験問題は次に続く。



**第3問** 人々の生活と水の供給について述べた次の文章A～Cを読み、下の問い(問1～9)に答えよ。

A ①古代ローマでは、遠くの水源から水道により都市へ水を供給する技術が発達した。南フランスに残るガール水道橋などは、その技術の高さをよく物語っている。水の供給は都市の生活において、飲料水や生活用水ばかりでなく公共浴場のためにも不可欠なものであった。②カラカラ帝の公共浴場が典型的であるが、公共浴場には温浴室だけでなく、冷浴室やサウナなど様々な施設があり、市民の社交や娯楽の場ともなっていた。広場には公共の水場が設けられ、これは無料で利用できたが、③富裕者が個人の家用に水道を引いた場合には有料となっていた。また、都市には水道の水や公共浴場の排水を利用した公衆便所も設置されていた。

問1 下線部①について述べた文として正しいものを、次の①～④のうちから一つ選べ。 

19
----

- ① 3回にわたるポエニ戦争で、セレウコス朝を滅ぼした。
- ② グラックス兄弟は、大土地所有者の利益に沿う改革を行った。
- ③ オクタウィアヌスは、元老院からアウグストゥスの称号を授かった。
- ④ ディオクレティアヌス帝は、ニケーア公会議を開催した。

問2 下線部②に関連して、カラカラ帝が行った事柄について述べた文として正しいものを、次の①～④のうちから一つ選べ。 20

- ① ローマ最古の成文法である十二表法を制定した。
- ② ローマ帝国の全自由人に、ローマ市民権を与えた。
- ③ 奴隸反乱であるスパルタクスの反乱を鎮圧した。
- ④ キリスト教を国教化し、他の宗教を禁止した。

問3 下線部③に関連して、世界史上の富裕者について述べた次の文 **a** と **b** の正誤の組合せとして正しいものを、下の①～④のうちから一つ選べ。 21

- a** プロイセンでは、ジェントリ(郷紳)が支配層を形成した。
- b** 中国の宋代には、新興地主層である形勢戸から多くの官僚が出た。

- ① **a** — 正      **b** — 正
- ② **a** — 正      **b** — 誤
- ③ **a** — 誤      **b** — 正
- ④ **a** — 誤      **b** — 誤

## 世界史 B

B イランや④中央アジアなどの乾燥地域に広く見られるカナートは、水の蒸発をできるだけ防いで遠くまで供給するための地下水路である。山地の麓の地下水を水源とし、トンネルを掘ってこれを遠くの地域や集落、あるいは都市に導いている。この地下水路には、掘った土砂の排出と通風のために一定の間隔で立坑が掘られており、地上から見るとその穴が点々と線状に連なって見える。カナートの起源は古代のイランであり、この地に興った⑤アケメネス(アカイメネス)朝の領土拡大や、のちの⑥イスラーム勢力の拡大によって広い地域に<sup>でんぱ</sup>伝播した。中国の<sup>しんきょう</sup>新疆や北アフリカでも見られ、地域によりカレーズやフォガラなどとも呼ばれる。

問 4 下線部④の歴史について述べた文として誤っているものを、次の①～④のうちから一つ選べ。 

22
----

- ① ソグディアナを本拠地とするソグド人は、内陸交易で活躍した。
- ② カラハン朝は、中央アジアで初めてのイラン系イスラーム王朝であった。
- ③ 中央アジアは、多くのマムルークを供給した。
- ④ ティムール朝は、サマルカンドを都として成立した。

問5 下線部⑤の初期の領土拡大について述べた次の文章中の空欄 **ア** と **イ** に入れる語の組合せとして正しいものを、下の①～④のうちから一つ選べ。 **23**

**ア** を滅ぼして独立したアケメネス（アカイメネス）朝は、リディア、次いで新バビロニアを滅ぼした。新バビロニアを滅ぼした際、アケメネス朝の建国者である **イ** は、バビロン捕囚に遭っていたヘブライ人たちを解放して帰郷を認めた。

- ① **ア** — メディア      **イ** — ダレイオス1世
- ② **ア** — メディア      **イ** — キュロス2世
- ③ **ア** — アッシリア      **イ** — ダレイオス1世
- ④ **ア** — アッシリア      **イ** — キュロス2世

問6 下線部⑥について述べた文として正しいものを、次の①～④のうちから一つ選べ。 **24**

- ① ムアーウィヤは、イェルサレムを都としてウマイヤ朝を建てた。
- ② アッバース朝は、官僚になる資格をアラブ人ムスリムのみ限定した。
- ③ ゴール朝は、建国後まもなくエジプトを征服した。
- ④ ロディー朝は、デリー＝スルタン朝の最後の王朝となった。

## 世界史 B

C ⑦ フランス革命直前の1780年代にフランスで刊行されたパリの生活情景を描いた『タブロー＝ド＝パリ』という大著の中には、水売りの人々のことも記されている。当時のパリでは水を供給する公共の泉は非常に少なく、市民は⑧ セーヌ川の水に頼っていたとされている。水売りの数は2万人に上るとされ、毎日セーヌ川の水を汲んで売っていた。同書には、その労働が過酷であったこととともに、売られている水の不衛生さも記されている。その後、19世紀後半の⑨ ナポレオン3世の治世にセーヌ県知事に任命されたオスマンは、パリの大規模な都市改造を行った。これによりパリの外観は一変したが、オスマンは上下水道の再編も行い、公衆衛生の改善に大きな業績を残した。

問7 下線部⑦に関連して、この革命中に起こった出来事について述べた次の文 a～c が、年代の古いものから順に正しく配列されているものを、下の①～⑥のうちから一つ選べ。 

25
----

- a ジロンド派の内閣が、オーストリアに宣戦した。
- b 国王ルイ16世が処刑された。
- c 国民議会が、人権宣言(人間および市民の権利の宣言)を採択した。

- |             |             |
|-------------|-------------|
| ① a → b → c | ② a → c → b |
| ③ b → a → c | ④ b → c → a |
| ⑤ c → a → b | ⑥ c → b → a |

問8 下線部⑧に関連して、セーヌ川河口を含む地域はノルマンディーと呼ばれる。この地域の歴史について述べた次の文 **a** と **b** の正誤の組合せとして正しいものを、下の①～④のうちから一つ選べ。 26

- a** ノルマン人の首長のロロが、ノルマンディー公国を建てた。  
**b** 第二次世界大戦中に、連合軍が大規模な上陸作戦を行った。

- ① **a** — 正      **b** — 正  
② **a** — 正      **b** — 誤  
③ **a** — 誤      **b** — 正  
④ **a** — 誤      **b** — 誤

問9 下線部⑨に関連して、この人物の事績について述べた文として正しいものを、次の①～④のうちから一つ選べ。 27

- ① 七月革命の際に、国民投票によって皇帝に即位した。  
② サルデーニャ王国から、サヴォイアとニースを獲得した。  
③ 失業者対策として、国立作業場を設立した。  
④ プロイセン＝フランス(普仏)戦争に勝利して、権力を強めた。

**第 4 問** 第一次世界大戦後のアジアの情勢について述べた次の文章 A～C を読み、  
下の問い(問 1～9)に答えよ。

A ①第一次世界大戦での②オスマン帝国の敗北により、戦後の中東地域では旧オスマン帝国領のシリア、レバノンはフランスの委任統治領、パレスチナ、トランスヨルダン、イラクはイギリスの委任統治領となった。この支配地域の線引きは、戦争中に結ばれた英仏露の密約であるサイクス・ピコ協定による分割案に概ね沿ったものであった。パレスチナはサイクス・ピコ協定では国際管理とされることになっていたが、一方でイギリスはバルフォア宣言でパレスチナにおける③ユダヤ人国家の建設を認めていた。戦後、イギリスの委任統治領となったパレスチナにはユダヤ人移民が増加し、アラブ人との対立が深まる一因となった。

問 1 下線部①について述べた文として波線部の誤っているものを、次の①～④のうちから一つ選べ。 

28
----

- ① サラエヴォ事件が、第一次世界大戦勃発の直接的な契機となった。
- ② 英仏軍がタンネンベルクの戦いでドイツ軍の進軍を阻止し、以後西部戦線は膠着状態となった。
- ③ ロシアのソヴィエト政権は、ブレスト＝リトフスク条約を結んで戦線から離脱した。
- ④ 膨大な量の兵員や物資が必要とされ、国家をあげての総力戦となった。

問2 下線部②に関連して、次の年表に示した a～d の時期のうち、オスマン帝国がオーストリアなどとカルロヴィッツ条約を結んだ時期として正しいものを、下の①～④のうちから一つ選べ。 29

<span style="border: 1px solid black; padding: 2px;">a</span>
1571年 レパントの海戦が起こる
<span style="border: 1px solid black; padding: 2px;">b</span>
1683年 第2次ウィーン包囲が行われる
<span style="border: 1px solid black; padding: 2px;">c</span>
1805年 ムハンマド＝アリーがエジプト総督となる
<span style="border: 1px solid black; padding: 2px;">d</span>

- ① a                      ② b                      ③ c                      ④ d

問3 下線部③に関連して、ユダヤ人国家と周辺地域の関係について述べた文として正しいものを、次の①～④のうちから一つ選べ。 30

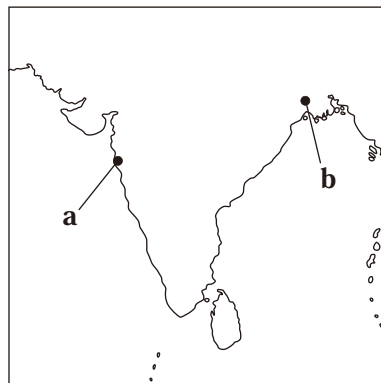
- ① 国連パレスチナ分割案には、周辺のアラブ諸国も賛成した。
- ② スエズ戦争（第2次中東戦争）以降、イスラエル軍はスエズ運河地帯に駐留した。
- ③ 第3次中東戦争（6日戦争）が始まると、アラブ石油輸出国機構（OAPEC）は石油戦略を発動した。
- ④ エジプト＝イスラエル平和条約に基づいて、シナイ半島がエジプトに返還された。



## 世界史 B

B ④ インドは第一次世界大戦でイギリスに協力し、戦後の自治を約束されていた。しかし、1919年にイギリスは形式的な自治は認めたものの、ローラット法を制定して民族運動の取り締まりをかえって強化した。これに対し、インドではガンディーの指導の下に第1次非暴力・不服従運動が展開された。その後、1929年には⑤ インド国民会議ラホール大会が開かれ、プールナ=スワラージ(完全独立)が決議された。翌年、ガンディーはイギリスによる塩の専売に対抗して「塩の行進」を行い、海岸まで行進してみずから塩をつくった。これは第2次非暴力・不服従運動の始まりとなったが、イギリスは英印円卓会議を開き、巧妙に⑥ 民族運動の鎮静化を図ろうとした。

問 4 下線部④に関連して、イギリスがインドへの進出の拠点の一つとした重要都市の名と、その位置を示す次の地図中の **a** または **b** との組合せとして正しいものを、下の①～④のうちから一つ選べ。 31



- ① シャンデルナゴル — a
- ② シャンデルナゴル — b
- ③ ボンベイ — a
- ④ ボンベイ — b

問5 下線部⑤に関連して、1906年に開かれたインド国民会議カルカッタ大会について述べた次の文 **a** と **b** の正誤の組合せとして正しいものを、下の①～④のうちから一つ選べ。 32

- a ベンガル分割令に反対する運動の高揚を背景に開催された。
- b 国産品愛用を意味するサティヤー＝グラハなど、4綱領が採択された。

- ① a — 正      b — 正
- ② a — 正      b — 誤
- ③ a — 誤      b — 正
- ④ a — 誤      b — 誤

問6 下線部⑥に関連して、世界史上の民族運動や独立運動、また国家の独立について述べた次の文 **a** ～ **c** が、年代の古いものから順に正しく配列されているものを、下の①～⑥のうちから一つ選べ。 33

- a 朝鮮で、三・一独立運動が起こった。
- b ベルギーが、オランダから独立した。
- c エジプトで、ウラービー(オラービー)運動が起こった。

- ① a → b → c
- ② a → c → b
- ③ b → a → c
- ④ b → c → a
- ⑤ c → a → b
- ⑥ c → b → a

## 世界史 B

C 中国は⑦パリ講和会議で、日本による二十一カ条要求の破棄や日本が得た山東のドイツ権益の返還を求めたが拒否された。これに反発して中国では五・四運動が展開され、これに押された中国政府はヴェルサイユ条約の調印を拒否した。この運動の影響で、孫文は秘密結社である中華革命党の大衆化の必要を感じ、これを中国国民党に改組した。一方、1921年にはコミンテルンの支援で **ア** を委員長とする⑧中国共産党が創設された。その後、1924年には第1次国共合作が成立し、国民党と共産党は協力関係に入った。しかし、孫文の死後、国民党の指導権を握った蒋介石は、北伐の途上、 **イ** を起こして共産党を弾圧し、第1次国共合作は崩壊した。

問7 文章中の空欄 **ア** と **イ** に入れる語の組合せとして正しいものを、次の①～④のうちから一つ選べ。 **34**

- ① ア — 陳独秀      イ — 上海クーデタ
- ② ア — 陳独秀      イ — 西安事件
- ③ ア — 胡適        イ — 上海クーデタ
- ④ ア — 胡適        イ — 西安事件

問8 下線部⑦に関連して、この会議の結果、諸講和条約が結ばれ、ヴェルサイユ体制と呼ばれる国際体制が成立した。この体制に含まれる事項について述べた文として誤っているものを、次の①～④のうちから一つ選べ。 35

- ① イギリスやフランスの思惑により、ドイツは巨額の賠償金を課された。
- ② ドイツは、すべての海外植民地を放棄した。
- ③ オーストリアは、ドイツとの合併を禁止された。
- ④ ハンガリーは、ヌイイ条約で領土を大幅に縮小された。

問9 下線部⑧に関連して、第二次世界大戦後の中国共産党について述べた次の文 a と b の正誤の組合せとして正しいものを、下の①～④のうちから一つ選べ。

36

- a 国共内戦に勝利したのち、中華人民共和国を建国した。
- b 指導者の劉少奇は、「大躍進」政策に失敗して国家主席を辞任した。

- ① a — 正      b — 正
- ② a — 正      b — 誤
- ③ a — 誤      b — 正
- ④ a — 誤      b — 誤

◆ 写 真 提 供 等 ◆

2023年度一般入学試験前期日程(2月1日)【世界史B】

- 1) 「カーバ聖殿」 写真：アフロ
- 2) 「イマームのモスク」 写真：アフロ

2023年度一般入学試験前期日程(2月1日)【日本史B】

- 1) 「秋冬山水図(雪舟筆) 冬景」 ColBase